


# 1. Tour de chauffe


Si tu as bien joué l'ouverture, et si ce n'est pas le cas pour ton adversaire, tu peux te retrouver en mesure de gagner déjà la partie grâce à une combinaison décisive. Reste toujours en alerte, ou sinon tu pourrais laisser passer ta chance !

Dans ce premier chapitre, je vais présenter une petite sélection de telles combinaisons. Pour beaucoup, ce sont des versions simplifiées de thèmes que nous verrons dans des chapitres ultérieurs. C'est pourquoi tu ne dois pas passer ce chapitre, même s'il te semble trop basique. Résoudre ces positions va t'aider à ancrer les idées dans ton esprit, et ainsi tu les retrouveras plus facilement plus tard dans le livre – ou même dans des parties réelles - lorsque les sources de distraction seront plus nombreuses.




Dans cette position, les Blancs ont une élégante manière de gagner, mais il est facile de passer à côté. Après 7.exf7+, les Noirs doivent jouer 7...♙e7 (car 7...♙xf7 8.♙xd8 perdrait la Dame), et maintenant survient une subtile combinaison de promotion : 8.fxg8♘+!! (8.fxg8♙? permettrait aux Noirs de sauver leur Dame par 8...♙xd1+ 9.♙xd1 ♖xg8) 8...♙xg8 (8...♙e8 9.♙h5+) 9.♙g5+ et les Blancs gagnent la Dame. Cette combinaison te fait-elle penser à quelque chose ? C'est en fait un piège

bien connu du contre-gambit Albin avec couleurs inversées. (1.d4 d5 2.c4 e5). Mais le repérer lorsque les couleurs sont inversées n'est pas si simple.




Pourrais-tu être tenté de jouer 5...d5 dans cette position ? Cela semble être une bonne manière pour les Noirs de mettre à profit leur développement rapide pour attaquer le centre blanc et notamment le pion e4. Dans ce cas, tu serais tombé dans un piège puisque 5...d5?? permet la fourchette 6.♙a4+ qui gagne une pièce. Mais il y a toutefois un point important à noter ici. Même si les Noirs ont autorisé une combinaison, les Blancs doivent jouer avec précision. Après 6...♘c6 (sinon 7.♙xb4), le plus précis est de jouer 7.cxd5! exd5 8.♙b5 qui gagne proprement le Cavalier. Au lieu de cela, aussi bien 7.exd5?! b5! que 7.♙xc6+ ♙d7 8.♙b7 ♘xe4 donnerait trop de compensations aux Noirs.


- Évite de choisir un coup 'évident' sans réflexion préalable. Visualise la position après le coup et surveille les combinaisons.
- Fais un bon usage de ta 'base de données mentale' des idées échiquiennes. Un schéma familier pourrait bien s'y trouver, mais sous une forme quelque peu modifiée.




Les Blancs comptaient avec la retraite du Cavalier noir. Qu'ont-ils oublié ?



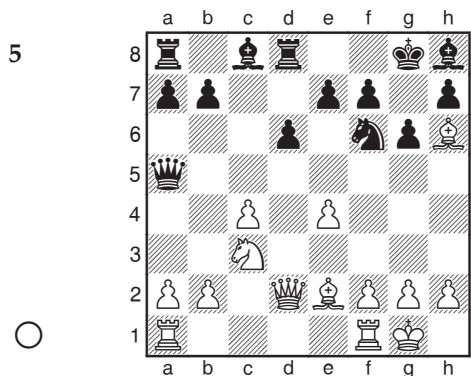
Des lignes ouvertes et une position du Roi noir affaibli. Les Blancs gagnent. Comment ?




Les Blancs doivent-ils reculer le Cavalier attaqué ?




Les Blancs ont leur attention tournée vers le centre. Où les Noirs regardent-ils ?




Le Roi noir n'a plus beaucoup de cases à sa disposition. Comment en profiterais-tu ?




Les Noirs ont un coup élégant qui gagne la partie sur-le-champ.




Les Blancs aimeraient bien mater en d8. Comment les Noirs, de leur côté, s'en prennent-ils au Roi blanc ?




« Les Noirs peuvent jouer 13...f4 et ignorer la fourchette de pion 14.c3. » Vrai ou faux ?




Un piège élémentaire dans la Caro-Kann. Comment les Blancs gagnent-ils ?




Les Blancs viennent juste de sacrifier leur Dame. Pourquoi ?




« La menace sur c7 implique que les Noirs doivent donner leur Dame. » Vrai ou faux ?




La Dame noire est liée à la défense de d8. Comment peux-tu en profiter ?




Le pion h7 est attaqué. Choisis un coup entre 10...h6 et 10...g6.




Les Blancs viennent juste de jouer 7.d5. Pourquoi ce coup ne perd-il pas tout simplement un pion ?




« La fourchette de pion 8...e5 gagne une pièce. »  
Vrai ou faux ?



Une astuce classique gagne pour les Blancs.



Comment les Blancs gagnent-ils une pièce ?



Les Noirs peuvent-ils prendre le pion b2 en toute sécurité ?